

Fichas repaso GEOGRAFÍA DE ESPAÑA

RELIEVE ESPAÑOL

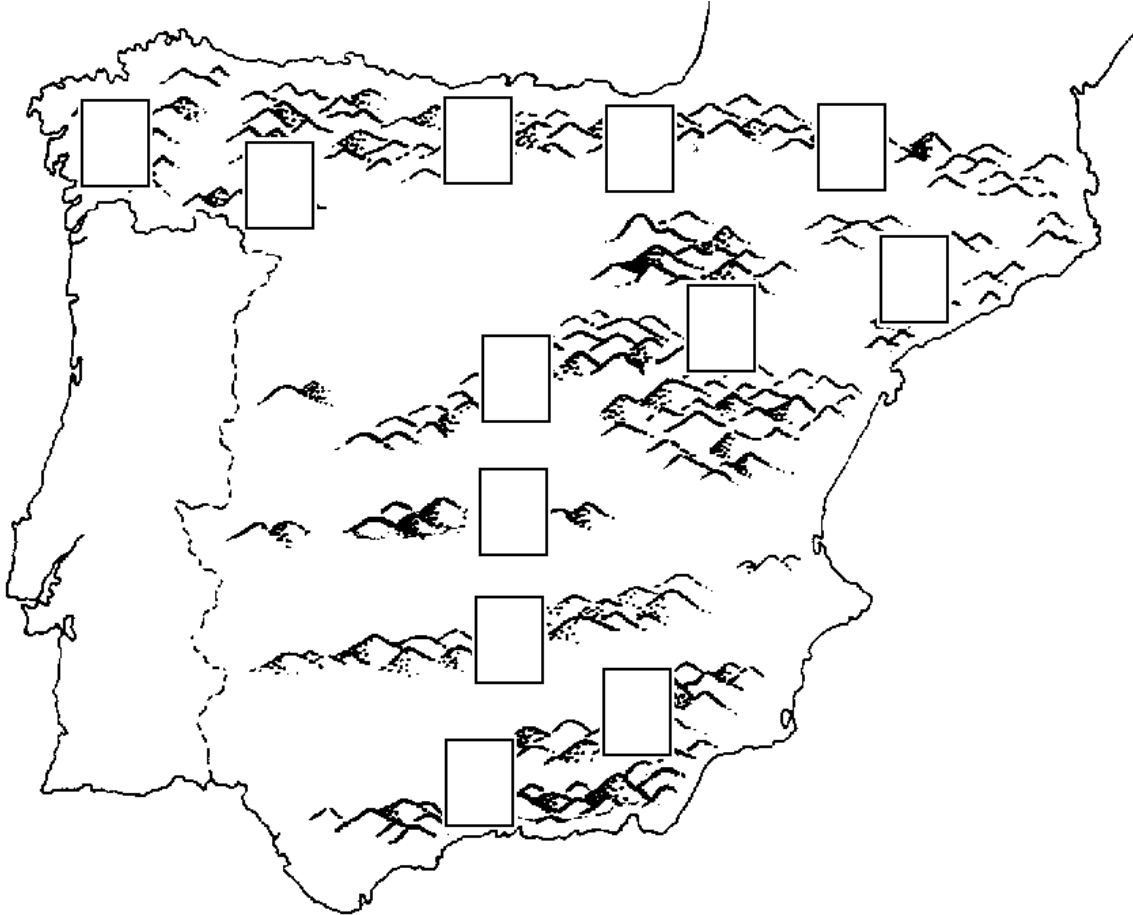
Identifica y escribe el nombre de cada sistema montañoso.



- | | |
|--------|---------|
| 1..... | 7..... |
| 2..... | 8..... |
| 3..... | 9..... |
| 4..... | 10..... |
| 5..... | 11..... |
| 6..... | 12..... |

RELIEVE ESPAÑOL

Identifica y escribe el número de cada sistema montañoso en la casilla correspondiente



1 SISTEMA CENTRAL	7. CORDILLERA SUBBÉTICA
2 MACIZO GALAICO	8. SIERRA MORENA
3 MONTES VASCOS	9. MONTES DE TOLEDO
4 C. COSTERO CATALANA	10. PIRINEOS
5 SISTEMA IBÉRICO	11. CORDILLERA CANTÁBRICA
6. MONTES DE LEÓN	12. CORDILLERA PENIBÉTICA

RÍOS ESPAÑOLES

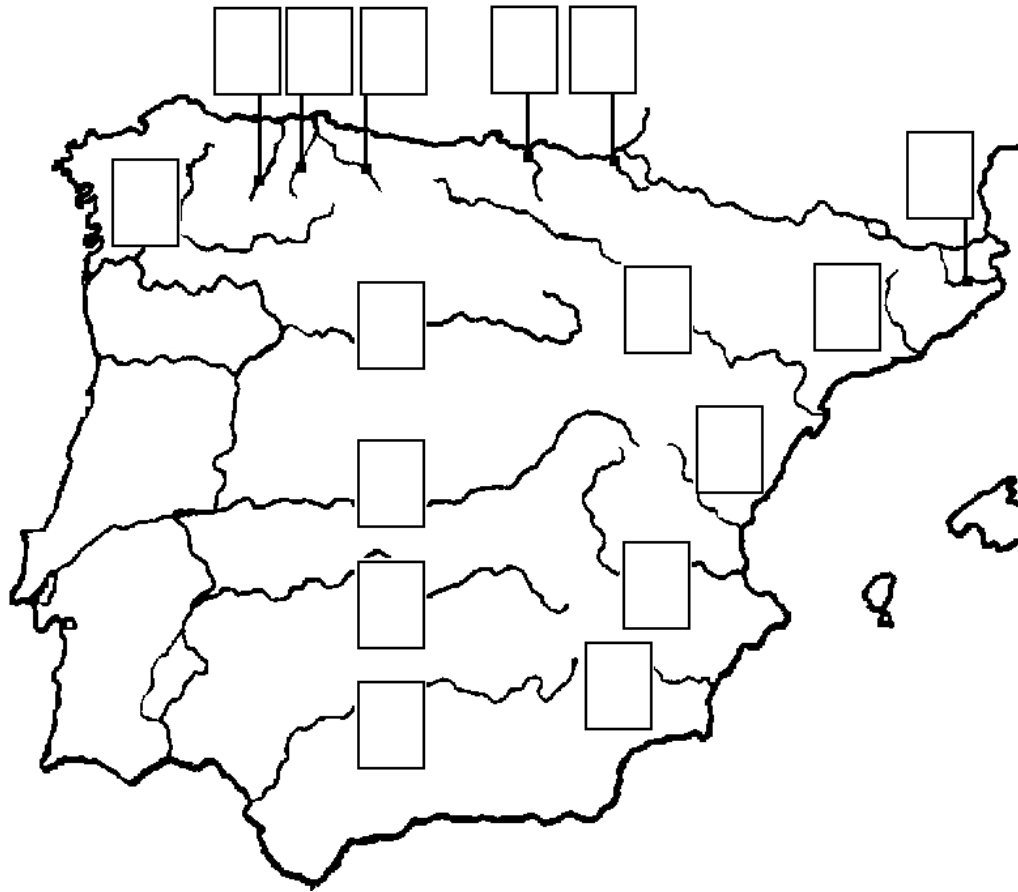
Escribe el nombre de cada río donde corresponda.



1	9
2	10
3	11
4	12
5	13
6	14
7	15
8	16

RÍOS ESPAÑOLES

Escribe el número de cada río donde corresponda.



1 DUERO	9 MIÑO
2 TAJO	10 TER
3 GUADALQUIVIR	11 BIDASOA
4 EBRO	12 NERVIÓN
5 GUADIANA	13 LLOBREGAT
6 JUCAR	14 NALÓN
7 TURIA	15 NAVIA
8 SEGURA	16 NARCEA

CABOS Y GOLFOS DE LAS COSTAS ESPAÑOLAS

Identifica y escribe más abajo el nombre correspondiente a cada número y a cada letra.



CABOS

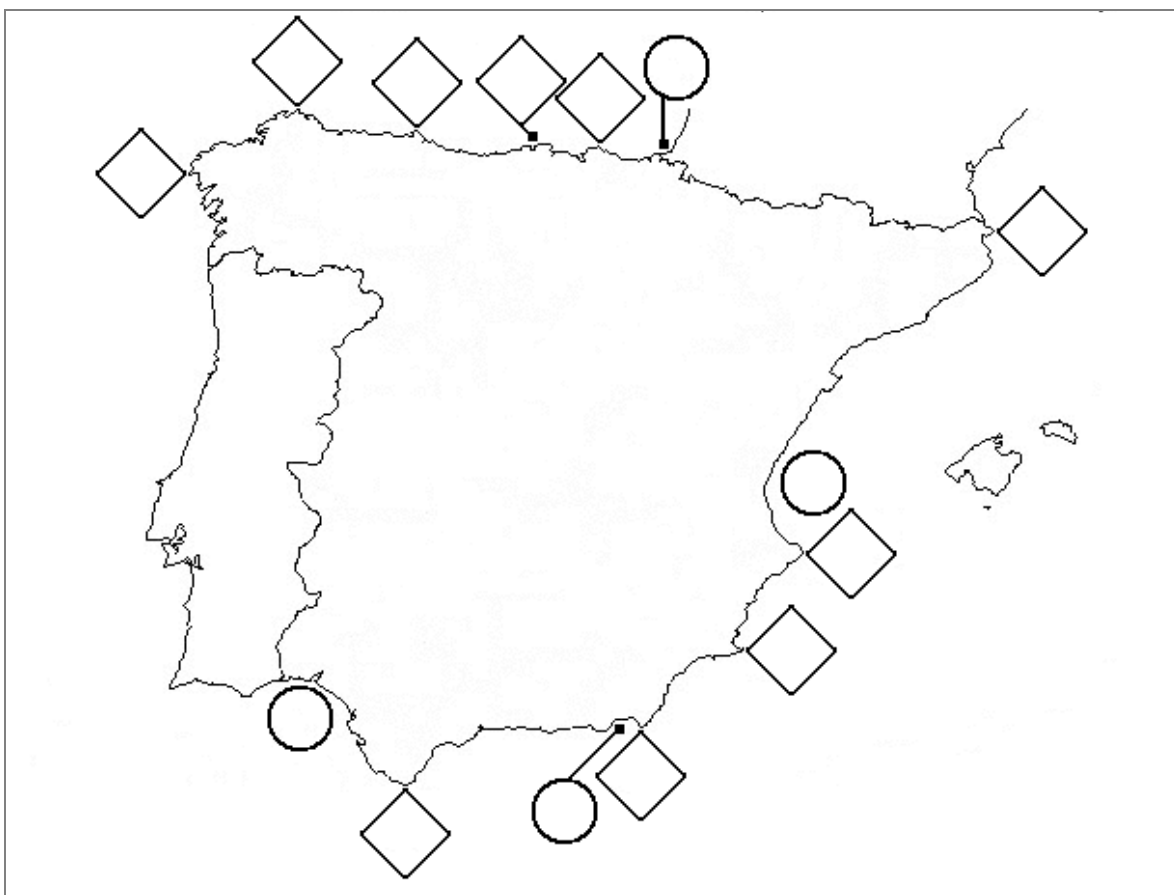
1		6	
2		7	
3		8	
4		9	
5		10	

GOLFOS

A		C	
B		D	

CABOS Y GOLFOS DE LAS COSTAS ESPAÑOLAS

Identifica y escribe en las “etiquetas” el número o letra de cada uno de los cabos y golfos respectivamente.



CABOS

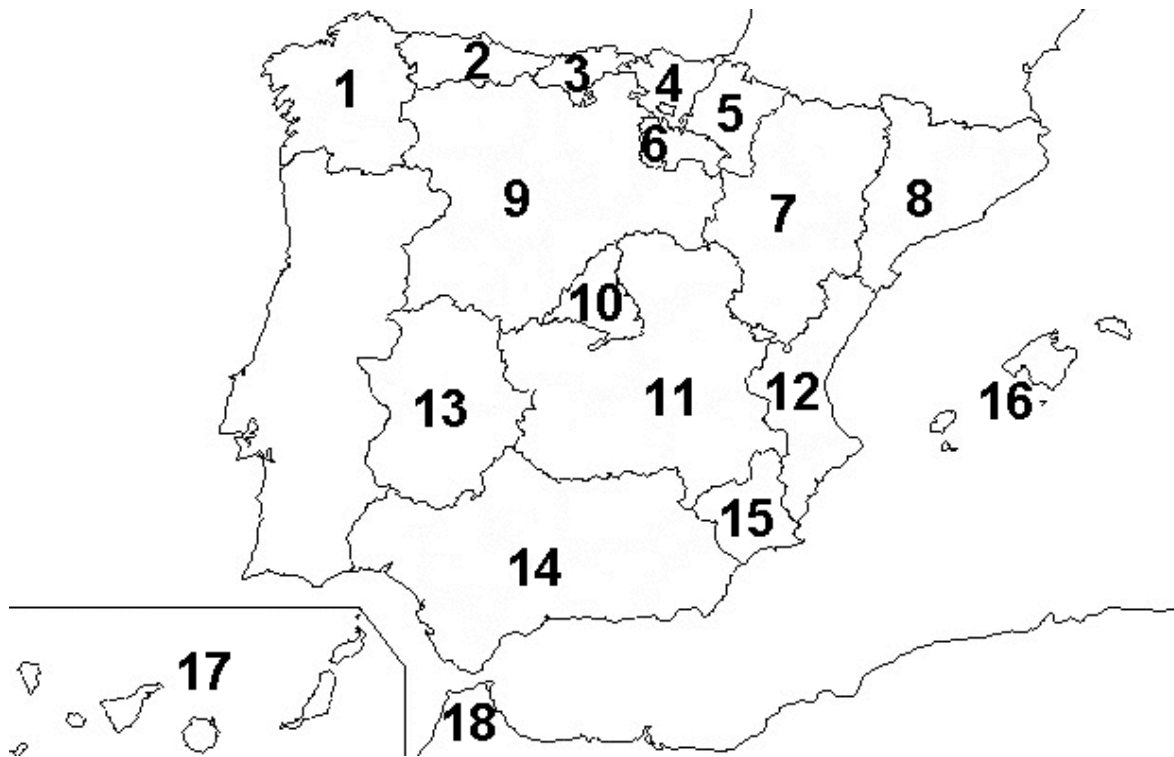
1	Punta de Tarifa	6	Finisterre
2	Estaca de Bares	7	La Nao
3	Peñas	8	Creus
4	Machichaco	9	Ajo
5	Palos	10	Gata

GOLFOS

A	Valencia	C	Almería
B	Vizcaya	D	Cádiz

COMUNIDADES AUTÓNOMAS ESPAÑOLAS

Escribe el nombre de cada Comunidad autónoma donde corresponda.



1.	7.	8.
2.	9.	10.
3.	11.	12.
4.	13.	14.
5.	15.	16.
6.	17.	18.


COMUNIDADES AUTÓNOMAS ESPAÑOLAS

Escribe el número de cada Comunidad autónoma donde corresponda.



1. Castilla-La Mancha	2. Galicia	3. Navarra
4. Aragón	5. Cataluña	6. Región de Murcia
7. Cantabria	8. Extremadura	9. La Rioja
10. Andalucía	11. Castilla y León	12. País Vasco
13. Baleares	14. Comunidad de Madrid	15. Principado de Asturias
16. Canarias	17. Cad. Valenciana	18. Ciudades Autónomas de Ceuta y Melilla

CRUCIGRAMA RELIEVE ESPAÑOL



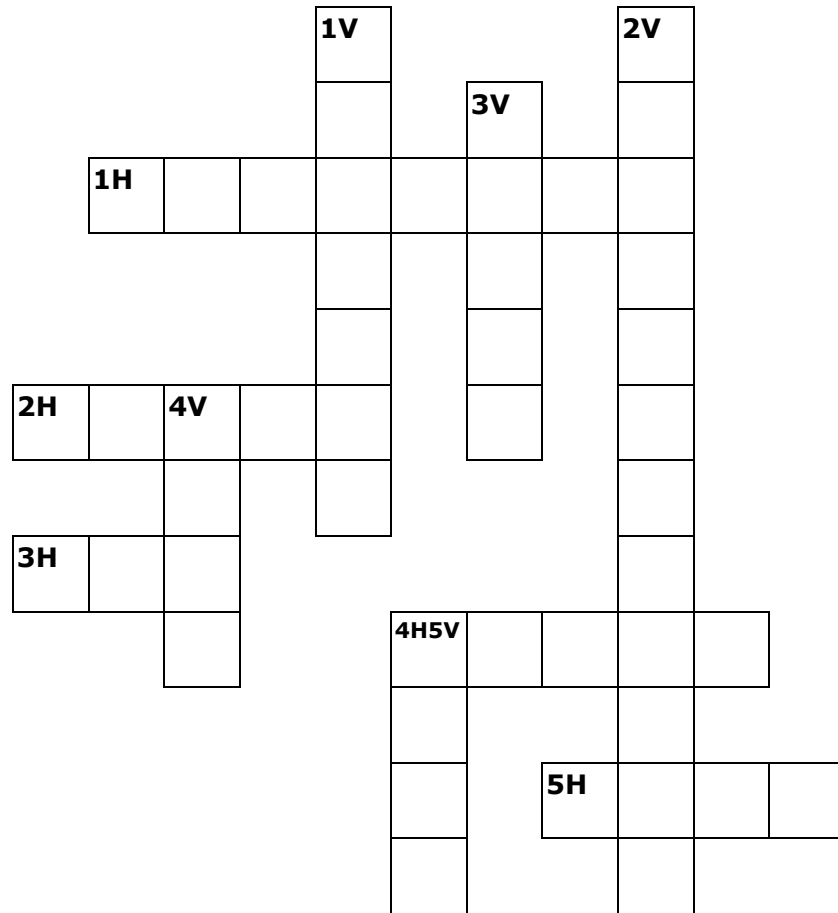
HORIZONTALES

1. El pico más alto de la Península.
2. Depresión del ...
3. Son la frontera entre España y Francia
4. El pico más alto de España
5. Una sierra que "toma mucho el sol"
6. Cordillera Costero-...
7. Un sistema que se llama como nuestra península
8. Es mucho mas grande que una mesa, pero la llamamos

VERTICALES

1. Esta cordillera se llama igual que un mar
2. Montes no muy elevados que se encuentran en Castilla-La Mancha
3. Sistema montañoso del centro peninsular
4. Un macizo en el noroeste peninsular
5. Estos montes están en Euzkadi
6. Son dos sistemas

CRUCIGRAMA RÍOS ESPAÑOLES




HORIZONTALES

1. Se oculta durante buena parte de su recorrido
2. Atraviesa la Meseta castellana
3. Río catalán
4. Algunas veces, inundó Valencia
5. Su afluente más importante es el Sil

VERTICALES

1. Río vasco
2. Permite navegar a los sevillanos
3. Río asturiano
4. Al desembocar, forma un gran delta
5. Pasa por Toledo y desemboca en Portugal

CRUCIGRAMA LÍMITES DE ESPAÑA-CABOS Y GOLFOS.



HORIZONTALES

1. Golfo al Norte de la Península
2. Océano que baña el Oeste peninsular
3. Conocido cabo catalán, es la punta mas oriental de España
4. Cabo que dio nombre a una famosa batalla
5. Mar que baña todo el Este Peninsular
6. Cadena montañosa que nos separa de Francia

VERTICALES

1. No es un felino, es un cabo
2. El golfo más grande del Levante
3. Cabo o punta más al Sur
4. Importante cabo que se pensaba que era el fin de la tierra
5. Mar que baña el todo el Norte de España
6. Punta o cabo más al Norte de España (Estaca de...)
7. Cabo en las costas vascas
8. Estrecho que nos separa de África

RÍOS ESPAÑOLES

Busca y rodea el nombre de 12 ríos españoles. Después los escribes más abajo.

Y	K	G	T	O	V	J	R	V	O	M	K	N	X	A
F	I	Q	A	Z	O	U	I	D	F	D	U	Ó	I	O
F	R	O	J	A	P	I	V	I	O	L	S	L	W	S
E	B	M	O	R	Q	H	I	T	U	R	I	A	E	A
U	D	P	C	S	L	G	U	A	D	I	A	N	A	D
T	T	R	G	S	E	Y	Q	W	N	W	U	D	W	I
A	R	U	G	E	S	Q	L	B	L	N	C	U	H	B
O	R	E	U	D	D	X	A	J	U	M	U	H	O	P
J	G	A	L	L	F	O	D	U	T	W	J	E	K	D
H	K	H	G	V	K	U	A	P	T	C	U	B	N	D
W	T	A	P	Y	K	K	U	O	Z	W	C	R	Q	F
O	Ñ	I	M	F	V	X	G	C	V	L	A	O	F	G
O	V	T	E	R	H	L	Y	G	U	V	R	G	E	R
S	J	S	R	T	F	N	M	C	B	L	Q	E	O	Z
A	I	M	P	N	Z	E	M	W	B	Z	N	U	I	C

RÍOS ENCONTRADOS
