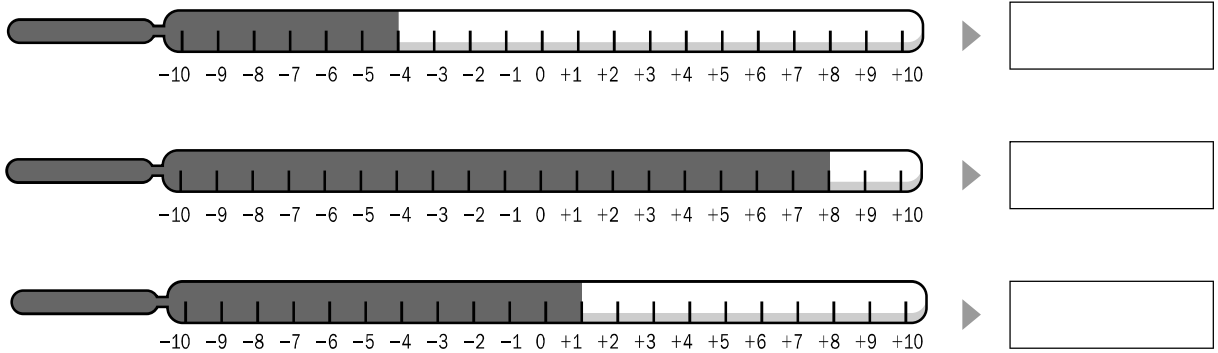


Nombre _____ Fecha _____

Recuerda

Los números enteros pueden ser positivos, negativos o el cero.
 Son: ..., -5, -4, -3, -2, -1, 0, +1, +2, +3, +4, +5...

1. Observa los termómetros y escribe la temperatura que marcan.



■ Ahora, rodea el termómetro cuya temperatura esté por debajo de 0 grados.

2. Observa el esquema del ascensor de un edificio de oficinas y escribe a qué planta llegas en cada caso.



- Estás en la planta +1 y subes 2 plantas. ▶ _____
- Estás en la planta +4 y bajas 6 pisos. ▶ _____
- Estás en la planta -2 y bajas una planta. ▶ _____
- Estás en la planta 0 y subes 4 plantas. ▶ _____
- Estás en la planta +2 y bajas 2 plantas. ▶ _____

3. Lee y escribe los números que se indican.

Tres números mayores que -2. _____

Tres números mayores que -1. _____

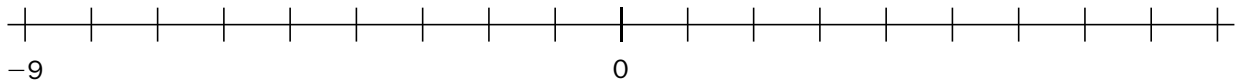
Tres números comprendidos entre -3 y +3. _____

Nombre _____ Fecha _____

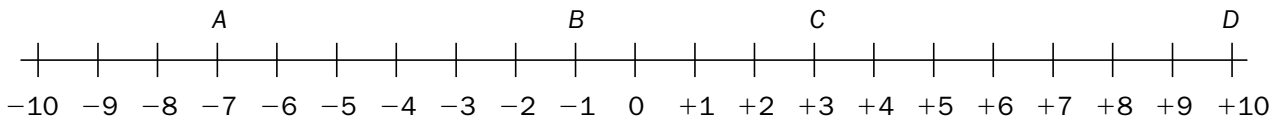
Recuerda

En la **recta entera**, los números enteros negativos se representan a la izquierda del 0 y los números enteros positivos, a la derecha del 0.

1. Completa la recta entera con los números que faltan.



2. Escribe los números que representa cada letra.



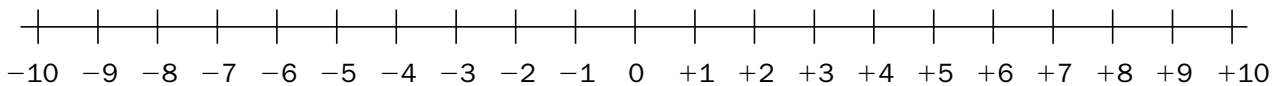
• A = _____

• C = _____

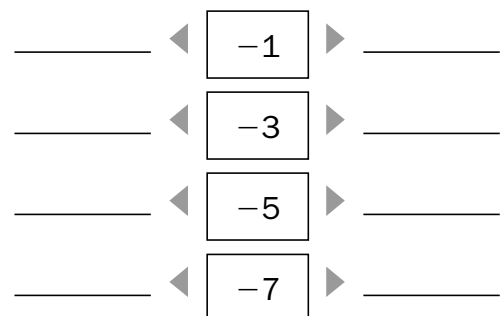
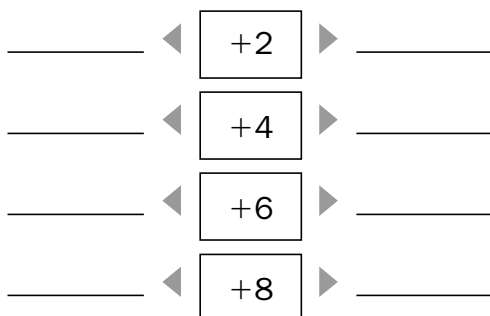
• B = _____

• D = _____

3. Representa en la recta entera los siguientes números.



4. En cada caso, escribe el número anterior y posterior.



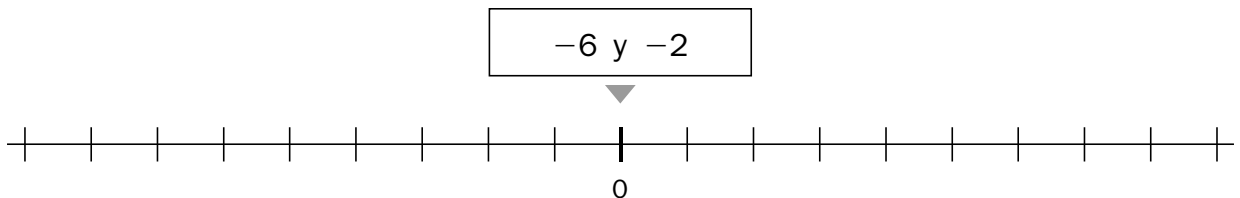
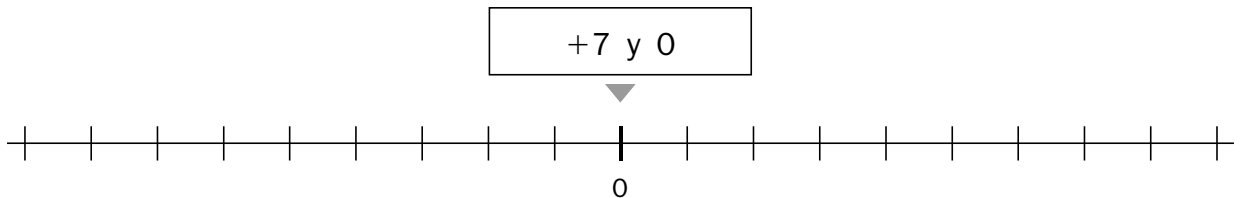
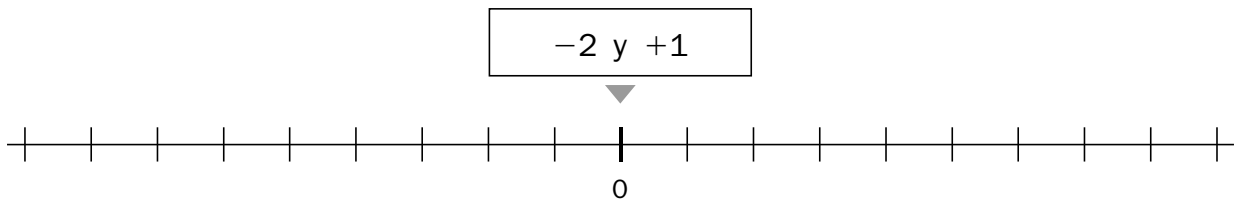
Comparación de números enteros

Nombre _____ Fecha _____

Recuerda

De dos números enteros, es mayor el que está situado más a la derecha en la recta entera.

1. Completa las rectas enteras. Después, en cada caso, busca los dos números en la recta correspondiente y rodea el mayor.



2. Escribe el signo $>$ o $<$ según corresponda.

$+4 \bigcirc -2$

$-4 \bigcirc +3$

$-9 \bigcirc +1$

$-5 \bigcirc -9$

$-2 \bigcirc +5$

$-3 \bigcirc -8$

$+6 \bigcirc +8$

$-6 \bigcirc -3$

$-7 \bigcirc 0$

3. En cada recuadro, rodea con rojo el número mayor y con azul, el número menor.

+4	-1	-5
+3	-6	0

0	-3	-2
-8	+1	-5

